

السؤال الأول : اختاري الإجابة الصحيحة ثم ظللي الحرف المناسب فيما يأتي

تعرض لوحة الإشارات أدناه البيانات التي سجلها طارق عن الوجبات المقدمة في مطعم المدرسة على مدى الأسابيع الأربعة الماضية استعملي هذه اللوحة لتجيبى على الأسئلة من ١-٣

الوجبات المقدمة في المطعم		
عدد الأيام	الإشارات	الطعام
٢		بيتزا
٤		شاورما
١٠		دجاج
٤		كباب

١- أي وجبة طعام تقدم أكثر ؟

أ	بيتزا	ب	دجاج	ج	شاورما	د	سمك
---	-------	---	------	---	--------	---	-----

٢- ما الوجبتان التي تتساويان في تقديمهما ؟

أ	بيتزا و شاورما	ب	دجاج وكباب	ج	كباب و شاورما	د	شاورما و دجاج
---	----------------	---	------------	---	---------------	---	---------------

٣- ما الوجبة الأقل تقديمًا ؟

أ	شاورما	ب	سمك	ج	بيتزا	د	دجاج
---	--------	---	-----	---	-------	---	------

أستعمل البطاقات الآتية للإجابة عن السؤالين (٤، ٥) :


١٢	١٢	١٦	٨	١٢	١٦	١٢	١٢
----	----	----	---	----	----	----	----

٤- اختيار العدد ٨

أ	أكيد	ب	أقل احتمالاً	ج	أكثر احتمالاً	د	مستحيل
---	------	---	--------------	---	---------------	---	--------

٥- اختيار عدد يقبل القسمة على ٥

أ	أكيد	ب	أقل احتمالاً	ج	أكثر احتمالاً	د	مستحيل
---	------	---	--------------	---	---------------	---	--------

٦- يبين مفتاح التمثيل بالرموز أن كل رمز  يمثل ٤ طيور . فما عدد الرموز التي تمثل ١٢ عصفور؟

أ	٤	ب	٢	ج	١٢	د	٣
---	---	---	---	---	----	---	---

سأل محمد عددًا من زملائه في الصف عن عدد الدول التي زارها كل منهم ومثل النتائج بالرموز كما هو موضح في الجدول أدناه . استعملي هذا التمثيل لتجبيي على الأسئلة (٧-٩)

عَدَدُ الدُّوَلِ المَزُورَةِ	
لُؤْيِي	☉ ☉ ☉
صُهَيْبٌ	☉ ☉ ☉ ☉ ☉
مَاجِدٌ	☉ ☉
عَدْنَانٌ	☉ ☉ ☉ ☉

٧- تدل الرموز على :

أ	ب	ج	د	أُسْئَلَةُ المَسْحِ
الطلاب	عدد الزيارات	الدول المزورة	أسئلة المسح	

٨- ما عدد الطلاب الذين استجابوا لجواب المسح ؟

أ	ب	ج	د	هـ
٣	٤	٢	٥	٥

٩- ما عدد الدول التي زارها صهيب ؟

أ	ب	ج	د	هـ
٢	٣	٥	٤	٤

استعملي البطاقات الآتية لتجبيي على (١٠-١١)

ع	ع	س	ع	ص	س	ع	ع
---	---	---	---	---	---	---	---

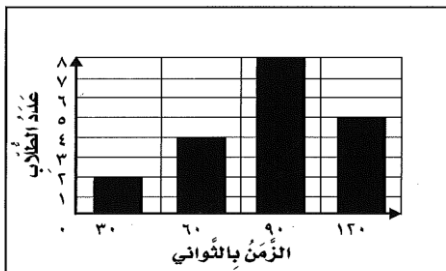
١٠- احتمال اختيار الحرف ع :

أ	ب	ج	د	مستحيل
أكيد	أقل احتمالاً	أكثر احتمالاً	مستحيل	

١١- اختيار أحد الحروف س ، ع ، ص :

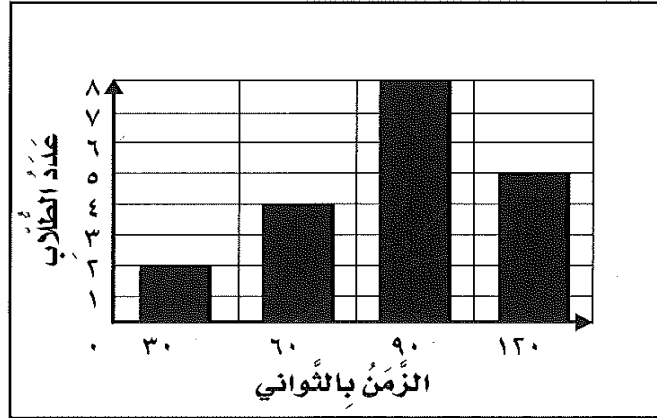
أ	ب	ج	د	مستحيل
أكيد	أكثر احتمالاً	أكثر احتمالاً	مستحيل	

١٢- الزمن الذي يقضيه معظم الطلاب في تنظيف أسنانهم ؟



أ	ب	ج	د	مستحيل
٣٠ ثانية	٦٠ ثانية	٩٠ ثانية	١٢٠ ثانية	

السؤال الثالث : استعملي التمثيل بالأعمدة لتجيبى على الأسئلة :



١. ما الزمن الذي يقضيه معظم الطلاب في تنظيف أسنانهم ؟
٢. أيهما أكثر احتمالاً : أن يقضي الطلاب في تنظيف أسنانهم ٣٠ ثانية أم دقيقتين ؟
٣. ما عدد الطلاب الذين استجابوا لهذا المسح ؟
٤. ما عدد الطلاب الذين قالوا : إنهم ينظفون أسنانهم في أقل من ٩٠ ثانية ؟

السؤال الرابع :

أ/ مثلى مجموعة البيانات الموضحة أدناه بأعمدة أفقية :



مَتَجَرُّ الحُرِّيَّةِ لِلأَدَوَاتِ الرِّيَاضِيَّةِ	
العدُّ	الصَّنْفُ
٥	مَضْرِبُ تِنِسٍ
٦	كُرَّةُ يَدٍ
٨	كُرَّةُ قَدَمٍ
٤	كُرَّةُ سَلَّةٍ

ب/ مثلى مجموعة البيانات الموضحة أدناه بأعمدة رأسية :

وَقْتُ وُصُولِ حَافِلَةِ الْمَدْرَسَةِ		
عَدَدُ الْأَيَّامِ	الإِشَارَاتُ	الْوَقْتُ
٢		٦:٣٠
٣		٦:٣٢
١٠		٦:٣٤
٥		٦:٣٦
٠		٦:٣٨

